



وزارة التربية
إدارة الشؤون التعليمية
مؤقتة الامتحانات وشؤون الطلبة



نموذج الإجابة

المرحلة الابتدائية

(كامل المنهج)

إختبارات الدور الثاني

المادة : العلوم

الصف : الخامس

العام الدراسي

2018 / 2017

المجال الدراسي : علوم

وزارة التربية

الزمن : ساعة واحدة

الإدارة العامة لمنطقة مبارك الكبير التعليمية

عدد الأوراق : ٥

التوجيه الفني للعلوم

امتحان الدور الثاني (المنهج الكامل) في مادة العلوم

لصف الخامس الابتدائي

العام الدراسي ٢٠١٧ | ٢٠١٨ م

نموذج إجابة

أولاً : الأسئلة الموضوعية (٢٤ درجة)

السؤال الأول : اختر الإجابة الصحيحة علمياً لكل من العبارات التالية بوضع

٥

علامة (✓) في المربع المقابل لها:

①

١- النبات الذي يحمل نوع واحد من الأزهار هو نبات :

البوط

القرع

الذرة

النخيل

①

٢- الحيوان اللاقاري الذي تغطيه صدفة صلبة تحمي جسمه الرخو هو :

الإسفنج

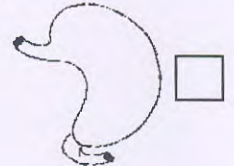

قنديل البحر

الحلزون

الدودة


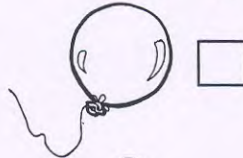

①

٣- العضو الذي تتم فيه معظم عملية الهضم هو :



①

٤- المادة التي لها حجم ثابت وشكل ثابت فيما يلي هي :



①

٥- أول جزء من الأذن يهتز عند سماع الأصوات هو :

العظام الثلاثة الدقيقة

القوقعة

العصب السمعي

طبلة الأذن

السؤال الثاني: أكتب بين القوسين كلمة (صحيحة) للعبارة الصحيحة

وكلمة (خطأ) للعبارة غير الصحيحة في كل مما يأتي:

① (...صحيحة...)

١. تنتج السراخس أبواغاً أسفل أوراقها.

① (...خطأ...)

٢. تتنفس الشراغيف بواسطة الرئتين.

① (...صحيحة...)

٣. الوحدة المستخدمة لقياس كتلة الأشخاص هي الكيلوجرام .

① (...خطأ...)

٤. الأصوات أسرع انتقالاً في الهواء .

① (...صحيحة...)

٥. تقل درجة حرارة الهواء كلما ارتفعنا لأعلى .

السؤال الثالث : في الجدول التالي اختر العبارة من المجموعة (ب) وأكتب رقمها أمام

ما يناسبها من عبارات المجموعة (أ) :

٤

الرقم	المجموعة (أ)	المجموعة (ب)
(٣)	نوع من خلايا الدم ينقل الأكسجين إلى خلايا الجسم الأخرى . ①	١. صفيحات ٢. كريات الدم البيضاء ٣. كريات الدم الحمراء
(٢)	نوع من خلايا الدم يقاوم الجراثيم . ①	

١٣٧

الرقم	المجموعة (أ)	المجموعة (ب)
(٣)	جسم يسمح بمرور جزء من الضوء عبره ولا نرى ما وراءه بوضوح . ①	١. الزجاج الصافي ٢. الخشب ٣. الورق الشمعي
(١)	جسم يسمح بنفاذ الضوء عبره ويمكن رؤية ما وراءه بوضوح . ①	

١٣٢

السؤال الرابع : أكتب بين القوسين الإسم أو المصطلح العلمي الدال على كل



١٠

عبارة من العبارات التالية :-

- ١- مرحلة الرقاد أو الراحة التي تمر بها البذرة. ص ١٤٦
- ٢- حيوان فقاري جلده جاف وله قشور. ص ١٤٦
- ٣- كل ماله كتلة ويشغل حيزاً من الوسط. ص ١٤٦
- ٤- سحب رقيقة بيضاء لا تحجب أشعة الشمس. ص ١١٩
- ٥- جسم يدور حول جسم آخر. ص ١٥٨
- Ⓐ (...الكيمون...)
- Ⓑ (...البراحيف...)
- Ⓒ (...المادة...)
- Ⓓ (...السبحا حبيبه...)
- Ⓔ (...تايبع...)



ثانياً: الأسئلة المقالية (١٦ درجة)

السؤال الخامس: أكمل جداول المقارنة التالية :-

		أوجه الاختلاف
بالبيض ①	بالولادة ②	طريقة التكاثر

السؤال السادس: أكمل جداول المقابلة التالية :-

الاحتراق	الصدأ	أوجه المقابلة
تغيراته كيميائية ①		وجه الشبه

		أوجه المقابلة
شبهاء بهموء ①		وجه الشبه

٢

السؤال السابع: علل لما يأتي تعليلاً علمياً سليماً:

١- المغذيات مهمة في حياتنا اليومية .
لأنها تساعد على توليد الطاقة / نمو وإصلاح النسيج الخلوي / تساعد على النمو

٢- وجود سحب قليلة في سماء الصحاري .
لأنه الهجاري مناطق جافة يقل فيها بخار الماء

٢

السؤال الثامن (شرح العلوم) :



١- تتصف الطيور بخصائص تساعد على الطيران .
اذكر اثنان من هذه الخصائص .

أ- عظام جوفاء ①

ب- جناحيه / ريش كبير قاسي ①

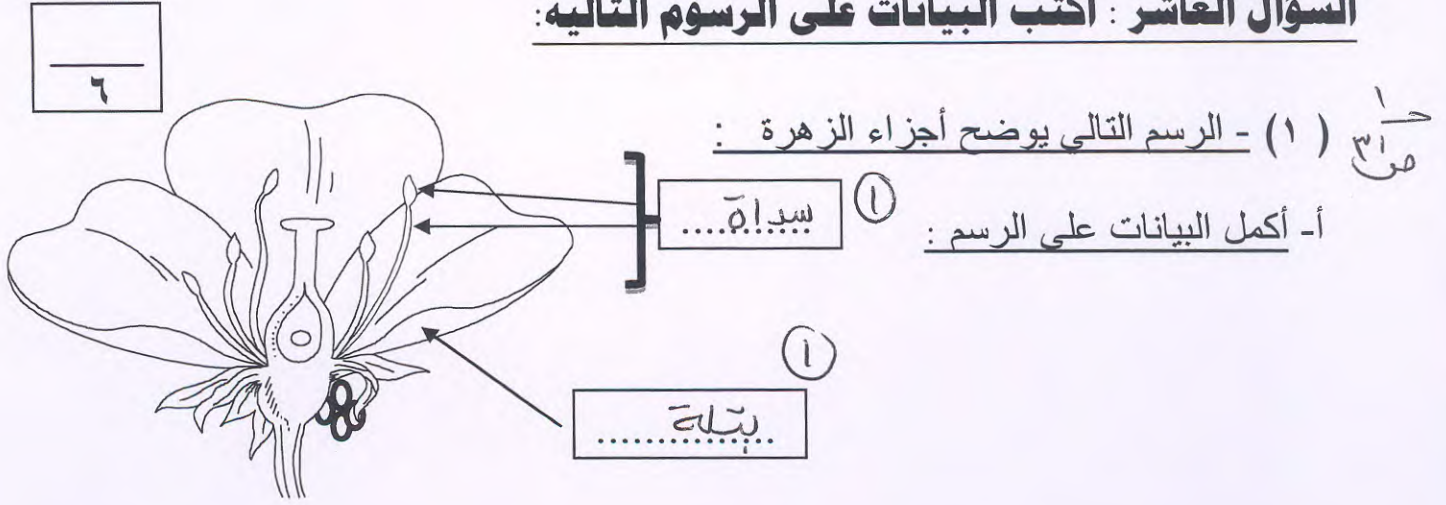
٢

السؤال التاسع: ماذا تتوقع أن يحدث في الحالات التالية:

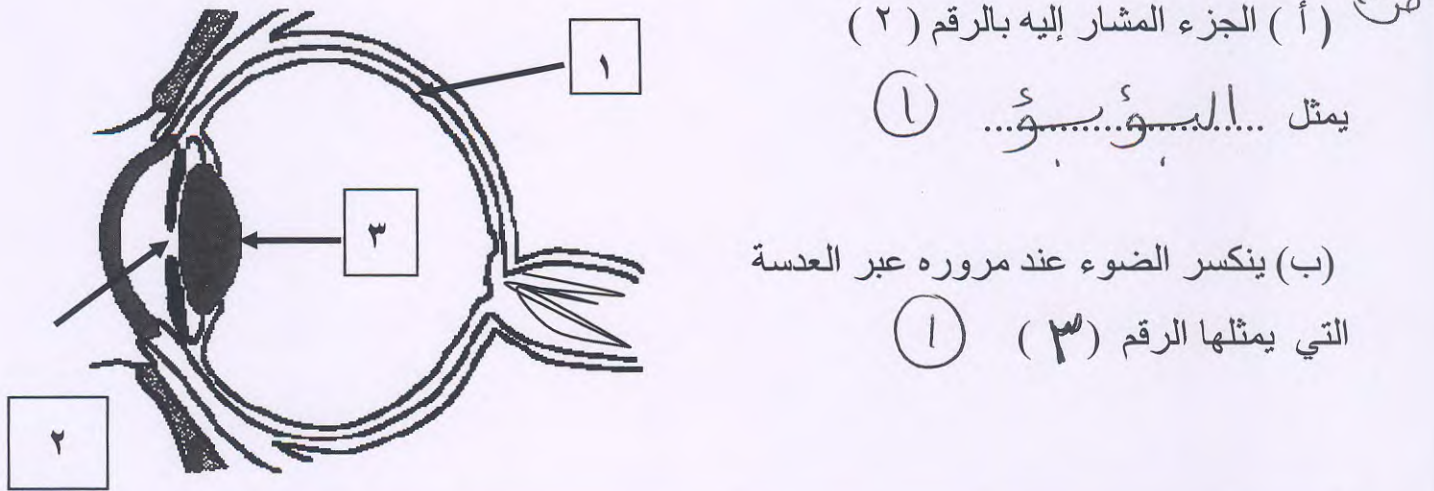
١- عندما تقل الصفائح في دم الإنسان .
يسبب النزيف عند جروحه / الجروح في الوعية الدموية / لا تبقى جارية

٢- إذا انعدمت الجاذبية بين الأرض والشمس .
الأرض تنفصل في الفضاء / تبعد الأرض عن الشمس / لا تبقى الأرض في مدارها

السؤال العاشر : أكتب البيانات على الرسوم التالية:




(٢) أمامك رسماً يوضح أجزاء العين عند الإنسان أدرسه جيداً ثم أجب عن الأسئلة التالية :



(٣) الأشكال التالية توضح أدوات لقياس الطقس اكتب اسم الأداة أسفل كل شكل:



(ب) . الشكل يمثل هــرـ يـاـح.....



(أ) . الشكل يمثل كـمـ الـرـيـح.....